

2枚のうち、1枚目

受検番号

番

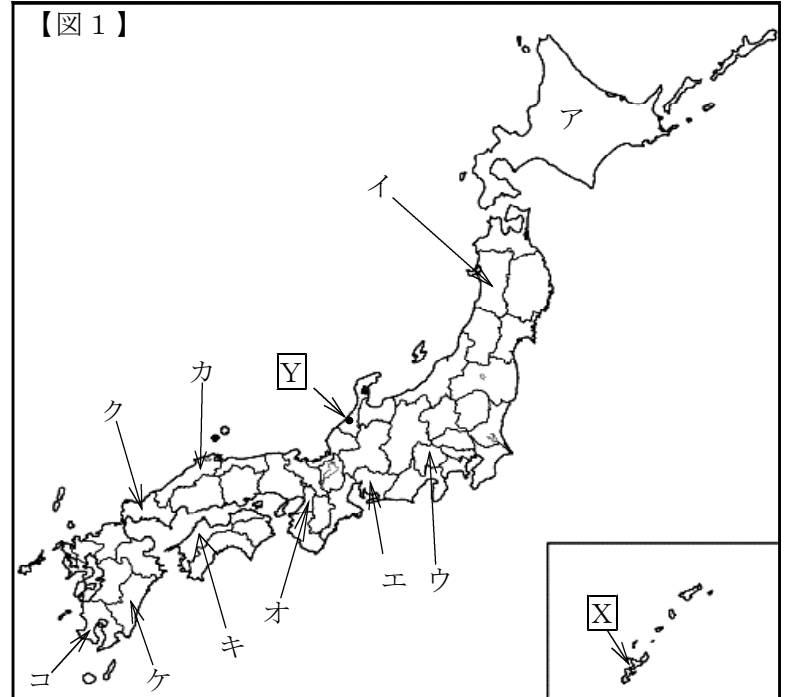
氏名

(注意) 答えは<解答らん>に書きなさい。なお、(2)の答えは【図1】中に書きなさい。

1 地図や資料を見て、あとの問いに答えなさい

(1) 下のA～Eの5つの説明文について、当てはまる都道府県を右の白地図のア～コの中から1つずつ選んで記号を書きなさい。また都道府県名を書きなさい。

- A 日本有数の稲作<sup>いなさく</sup>地帯が広がっており、米の生産量は全国で上位である。東京と新幹線や高速道路でつながっているため近年は工業団地<sup>えいどんち</sup>も多数進出してきている。
- B 江戸時代には経済の中心として「天下の台所」とよばれ、栄えた<sup>さか</sup>場所である。
- C なだらかな<sup>なだらか</sup>なしゃ面に広がる水はけのよい土地と、雨が少なく昼と夜との気温の差が大きい気候を生かし、ぶどうの生産量が毎年全国で上位となる。
- D 古くからみかんづくりがさかんであった。あたたかい気候を生かし、生産量は全国で上位である。
- E 中京工業地帯<sup>ちゅうけいこうぎょうちたい</sup>が広がる。日本有数の自動車メーカーがあり日本の自動車生産の中心である。



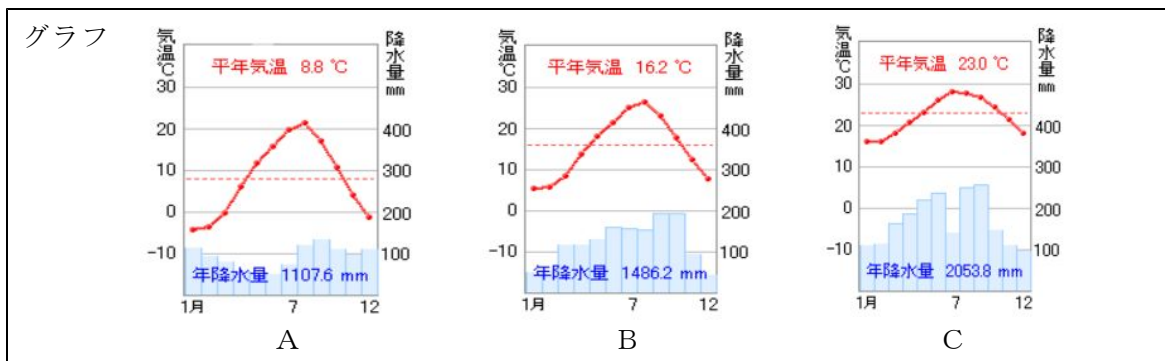
<解答らん>

A	記号	B	記号	C	記号	D	記号	E	記号
	都道府県名		都道府県名		都道府県名		都道府県名		都道府県名

(2) 現在、ロシアがせんりょうしているために、自由に行き来ができない島々があります。【図1】の地図中のこの島々を○でかこみなさい。

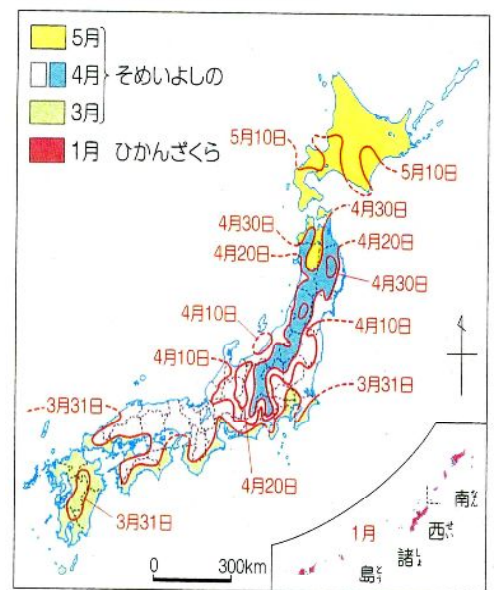
(3) 下のア～ウの写真は、それぞれ3月下旬の日本各地の様子を示しています。またA～Cのグラフは、ア～ウに当てはまる各地の平均気温と年間降水量<sup>こうすいりょう</sup>をあらわします。また、【図2】は日本各地での桜がさく時期のちがいを示しています。これらをもとに【図1】中の都市Xの様子を示している写真とグラフをそれぞれ1つずつ選び、記号を書きなさい

\*降水量<sup>こうすいりょう</sup>・・・空気中から地表に落ちた水(雪・氷を含む)の量。単位mm



【図2】

桜がさく時期のちがい(気象庁)

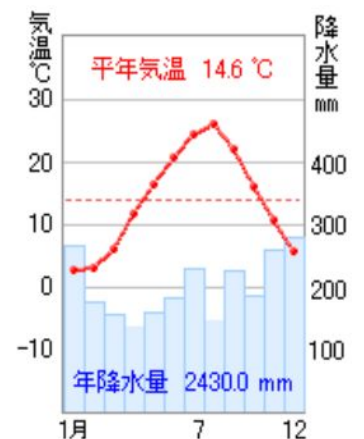


<解答らん>

写真	グラフ
----	-----

(4) 右のグラフは、【図1】中の都市Yの平均気温と年間降水量をあらわしたものです。降水量に注目し、「北西の季節風」という言葉をつかって都市Yの気候の特色を説明しなさい。

<解答らん>



平成23年度 社会 学力検査問題

2枚のうち、2枚目

(注意) 答えは<解答らん>に書きなさい。

受検番号	番	氏名
------	---	----

2 右に示した年表を見て、あとの問いに答えなさい。

(1) 年表中の ( ) に当てはまる語句を書きなさい。

(アには政府の名前, イには人名が入ります)

<解答らん>

ア		イ	
---	--	---	--

時代	政治に関すること
弥生	日本に小さな国がたくさんつくられた。
古墳	(ア) が国を統一した。
奈良	天皇を中心とした政治が始まった。
平安	都を移し、政治の立て直しが行われた。
鎌倉	武士による政治が本格的に始まった。
室町	〔 〕 が守護大名をしたがえ、強い権限をもった。
安土・桃山	(イ) が室町幕府をほろぼし、全国統一を目指した。
江戸	武士による政治が安定した。

(2) 年表中の古墳時代には、右の写真のような古墳がたくさん作られました。このことについてあとの問いに答えなさい。

① 写真のような形をした古墳を何といいますか。

<解答らん>

①	
---	--

② 右の古墳は大山古墳(大阪府堺市)です。この古墳の周辺には大きな古墳がいくつもあります。この地域に大きな古墳が多い理由を書きなさい。

<解答らん>

②	
---	--



(3) 年表の室町時代について、あとの問いに答えなさい。


① 年表の〔 〕に当てはまる室町時代に活やくした人物を、下のア～エから1つ選び、記号を書きなさい。



<解答らん>

--

② 下のア～エのうち、室町時代に生まれた文化と関係のないものをア～エから1つ選び、記号を書きなさい。



<解答らん>


--

3 下の3つの資料は、明治時代を表すものです。これらの資料を見て、あとの問いに答えなさい。

【資料1】大日本帝国憲法

第1条 大日本帝国は、永遠に続く同じ家系の ( ) が治めるものとする。  
第3条 ( ) は神のように尊い存在であり、けがしてはならない。

【資料2】九州の製鉄所



【資料3】ノルマントン号事件



<解答らん>

(1) 【資料1】の ( ) には同じ言葉が入ります。 ( ) に当てはまる語句を書きなさい。

(2) 【資料2】は、九州に建てられた製鉄所です。次のア～エの文のうち、この製鉄所が建てられたころと関係のないことを述べているものを1つ選び、解答らん記号を書きなさい。

ア このころになると、せんい工業が発達し、生糸の生産高が世界1位になった。

イ 日清戦争に勝って得たお金で、工業を発達させた。

ウ 当時、製糸工場に働いていた女性たちは、安い給料と悪い環境の中で働いていた。

エ このころの文化は、「ザン切り頭をたたいてみれば、文明開化の音がする」と言われた。

(3) 【資料3】の事件では、日本人乗客は全員水死し、イギリス人船長をはじめとする白人は無事でした。この事件を受けて日本国内ではあることを要求する声が高まりました。どのようなことを要求する声が高まりましたか。「条約」という語句を必ず用いて説明しなさい。

<解答らん>

--